




Name: _____

Die Entwicklung der Mode

Ordne die Bilder, nummeriere sie und schreibe deine Meinung über Mode in dein Heft!



<u>Antike und Altertum (4000 vor Chr. - 500 nach Chr.)</u>	<u>1</u>
<u>Mittelalter. (6. bis 15. Jahrhundert)</u>	<u>2</u>
<u>Renaissance (1300 – 1700)</u>	<u>3</u>
<u>Barock (1600 – 1750)</u>	<u>4</u>
<u>Französische Revolution (1789 – 1799)</u>	<u>5</u>
<u>Biedermeier (1815 – 1848)</u>	<u>6</u>
<u>Jahrhundertwende (1890 – 1914)</u>	<u>7</u>
<u>1950</u>	<u>8</u>
<u>2000</u>	<u>9</u>
<u>Heute</u>	<u>10</u>